

أسئلة تطبيقية لمقرر التربية الوطنية والتنشئة المدنية
للفص الخامس الابتدائي للفترة الدراسية الرابعة

أولاً: الأسئلة الموضوعية:

(١) - الجدول الذي أمامك يمثل القيم الإنسانية التي يحثنا على أداءها ديننا الإسلامي:
أختي من القائمة [أ] ما يناسب القائمة [ب] بوضع الرقم المناسب في مكانه الصحيح:

م	(أ)	(ب)
١	- القيم الإسلامية تحث على عمل الخير. (التعاون بين الناس ومساعدة الآخرين واجب ديني وأخلاقي)	
٢	- القيم الإسلامية تنبذ الحروب وتدعو إلى السلم .	
٣	- القيم الإسلامية تحرص على الحريات العامة. (حرية الرأي والاختيار مكفولة ضمن دائرة القانون)	
٤	- القيم الإنسانية تحض على التحلي بالأخلاق والفضيلة. (المثل الأخلاقية تظهر من خلال المواقف والتصرفات)	
٥	- القيم الإسلامية تتسلح بالعلم والعمل. (الناشئة بناء المستقبل عليهم التسليح بالعلم)	

(٢) - اختر الإجابة الصحيحة من بين البدائل التي تلي كل عبارة بتظليل المربع الصحيح

بِسْمِ اللَّهِ الرَّحْمَنِ الرَّحِيمِ

{ { وتعانوا على البر والتقوى ولا تعاونوا على الإثم والعدوان } }

صدق الله العظيم

أ - الصورة التي يتطابق معناها مع الآية الكريمة السابقة هي التي تحمل الرقم :



٤

٣

٢

١

ب - بعد إقرار حقوق المرأة السياسية تم تعيين الشيخة/ فاطمة الصباح والسيدة/ فوزية البحر أول امرأتين في :

١ - المجلس الوطني ٢ - المجلس البلدي ٣ - مجلس الأمة ٤ - المجلس التأسيسي

ج مقومات الصحة الجيدة كثيرة ليس من بينها :

١ - ممارسة الرياضة .

٢ - التدخين .

٣ - المحافظة على نظافة البيئة .

٤ - تناول الغذاء الصحي .

د - أحد أسباب التلوث " ضعف الوعي بالنظافة " و تمثلها الصورة التي تحمل الرقم :



٤

٣

٢

١

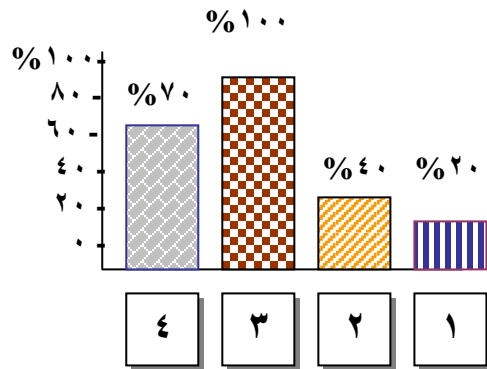
هـ - أول وزيرة في دولة الكويت بعد منح المرأة حقوقها السياسية اسمها:

١ - د. رشا الصباح ٢ - د. معصومة المبارك ٣ - د. موزي الحمود ٤ - نورية الصبيح

و- مقومات الصحة الجيدة متعددة ، ليس من بينها:

١ - ممارسة الرياضة
٢ - المحافظة على نظافة البيئة
٣ - التدخين
٤ - تناول الغذاء الصحي

ز- نسبة الماء تقريباً في جسم الإنسان يمثلها العمود البياني الذي يحمل الرقم:



(٣) - أكتب المصطلح الدال على العبارات التالية بالاستعانة بما بين الأقواس:
(القانون - صحة البيئة - التنمية - التكنولوجيا - الترشيح)

أ	استخدام المعارف والمهارات لإنتاج أدوات أو خدمات لتسهيل حياة الإنسان
ب	ينظم العلاقات بين الناس ، ويحدد ما هو مسموح وما هو ممنوع .
ج	الزيادة المستمرة والتقدم في جميع مجالات الحياة .
د	التكيف مع جميع العوامل الطبيعية في بيئة الإنسان التي تؤثر في حياته ورفاهيته .

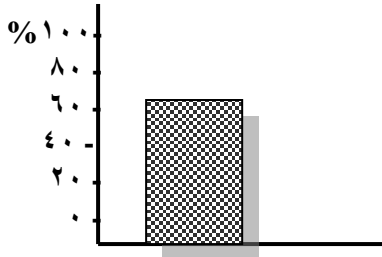


(٤) - أكمل العبارات التالية بما يناسبها مما درست:

أ - الصورة التي أمامك تمثل طريقة للحفاظ على البيئة بفرز نفايات المنازل تسمى

ب- أول وزيرة في دولة الكويت بعد منح المرأة حقوقها السياسي اسمها

ج- احترام القانون من قبل أفراد المجتمع يوصل المجتمع إلى حالة من الأمان تسمى



د - نسبة الماء في جسم الإنسان حسب الرسم البياني الذي أمامك تصل إلى % .



هـ- الصورة التي أمامك تعني أن الجميع

سواسية أمام

و- بسبب تطور وسائل الاتصال بين دول العالم أصبح يطلق على العالم بأنه



ز- الشكل الذي أمامك يمثل نعمتان يجب أن نحافظ عليهما ، هما:

..... و.....

(٥) - أختَر من القائمة [أ] ما يناسب القائمة [ب] بوضع الرقم المناسب في مكانه الصحيح :

م	(أ)	الرقم	(ب)
١	بِسْمِ اللَّهِ الرَّحْمَنِ الرَّحِيمِ - ﴿تعاونوا على البر والتقوى ولا تعاونوا على الإثم والعدوان﴾ صدق الله العظيم	-----	- سوء استغلال الإنسان للبيئة وعدم الحفاظ عليها بإلقاء الفضلات والنفايات وتلويث البيئة .
٢	بِسْمِ اللَّهِ الرَّحْمَنِ الرَّحِيمِ - ﴿ظهر الفساد في البر والبحر بما كسبت أيدي الناس ليذيقهم بعض الذي عملوا لعلهم يرجعون﴾ صدق الله العظيم	-----	- الجميع متساوون في الحقوق والواجبات .
٣	بِسْمِ اللَّهِ الرَّحْمَنِ الرَّحِيمِ - ﴿وقل اعملوا فسيرى الله عملكم ورسوله والمؤمنون﴾ صدق الله العظيم	-----	- الإفراط في استهلاك موارد الطبيعة واستغلالها سلباً .
٤	بِسْمِ اللَّهِ الرَّحْمَنِ الرَّحِيمِ - ﴿وكلوا واشربوا ولا تسرفوا إنه لا يحب المسرفين﴾ صدق الله العظيم	-----	- مساعدة الناس والتعاون مع الآخرين واجب ديني وأخلاقي .
		-----	- التنمية ضرورية لتقدم الإنسان .

(٦) - أكتب المصطلح الدال على العبارات التالية:

١	- الزيادة المستمرة والتقدم في جميع مجالات الحياة .
٢	- المثل العليا التي ترتقي بسلوك الإنسان إلى المستوى الأخلاقي القويم .
٣	- استهلاك الكميات اللازمة لتأمين حاجتنا وإنجاز أعمالنا فقط وعدم هدر ما يزيد عن هذه الاحتياجات .
٤	- كل ما يحيط بنا من أرض وهواء وماء ، وتشمل كل العناصر الطبيعية حية وغير حية .

(١) - أقرأ الفقرة التالية ولاحظ الصور ثم أجب عما يليها من أسئلة:



" نريد للمواطنين أن يحرصوا على المرافق والأموال والخدمات العامة فلا يسرفوا في استهلاكها، وأن يتحلوا بروح الإيجابية والتعاون مع جهود الدولة للصالح العام ، وأن يدركوا أن المعيار الحقيقي للمواطنة هو بمقدار الإسهام في خدمة الوطن وتحقيق التوازن العادل بين الحقوق والواجبات " .


أ. من قائل هذه الفقرة .

(.....)



ب. أستنتج ثلاث واجبات يجب عليك عملها تجاه وطنك الحبيب دولة الكويت ؟

- -
- -
- -



(٢) - علل " القانون ضروري للمجتمع " ؟

- أ -
- ب -



(٣) - ماذا يحدث لو :

أ - انقطعت الكهرباء وتوقفت إشارات المرور عن العمل؟

.....



ب - لم يسقى النبات بالماء ؟

.....

(٤) - أقرأ الفقرة التالية جيداً ثم أجب عما يليها من أسئلة:

" لا يمكن لأي دولة من دول العالم أن تبقى وحيدة أو منعزلة عن الأحداث الدولية بفعل تقدم التكنولوجيا، ففي مجال الاتصالات والنقل أصبح بإمكان المشاهدين في جميع القارات متابعة الأحداث العالمية وهو ما أدى إلى خلق رأي عالمي يتحسس قضايا الإنسان ، وقد قامت دولتنا الحبيبة الكويت بمواكبة هذا التقدم بمزيد من برامج التنمية الوطنية لمواجهة هذه العولمة " .

أ. ضع عنواناً مناسباً للقطعة .

(.....)

ب. عرف ما تحته خط .

..... -

ج. أوجد العلاقة بين كل مما يلي :

١ - التنمية الوطنية و العولمة .

..... -

٢ - العولمة و غزو النظام العراقي البائد على دولتنا الحبيبة الكويت .

..... -